

Proves d'accés a la universitat per a més grans de 25 anys

Geografia

Sèrie 1

Fase específica

Qualificació		
Primera part		
Segona part	1	
	2	
	3	
	4	
Suma de notes parcials		
Qualificació final		




Qualificació

Etiqueta identificadora de l'alumne/a



UAB

Universitat Autònoma
de Barcelona



Universitat de Lleida



Convocatòria 2017

Aquesta prova consta de dues parts. En la primera part, responeu a TRES de les cinc qüestions proposades i, en la segona part, trieu UNA de les dues opcions (A o B) i responeu a les quatre qüestions de l'opció triada.

Esta prueba consta de dos partes. En la primera parte, responda a TRES de las cinco cuestiones propuestas y, en la segunda parte, escoja UNA de las dos opciones (A o B) y responda a las cuatro cuestiones de la opción escogida.

PRIMERA PART

Responeu a TRES de les cinc qüestions proposades.

[6 punts: 2 punts per qüestió]

PRIMERA PARTE

Responda a TRES de las cinco cuestiones propuestas.

[6 puntos: 2 puntos por cuestión]

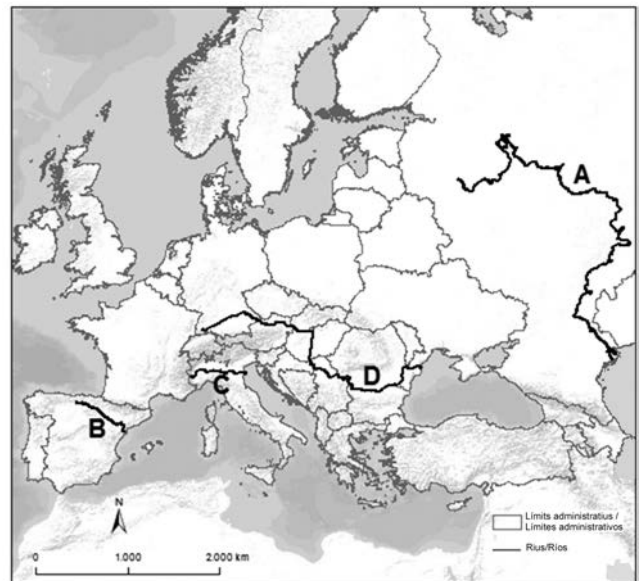
1. Diguen a quins dels rius principals d'Europa corresponen les lletres del mapa i esmenteu el país (o un dels països) per on passa cadascun d'aquests rius.
1. Diga a cuáles de los principales ríos de Europa corresponden las letras del mapa y mencione el país (o uno de los países) por donde pasa cada uno de estos ríos.

A:

B:

C:

D:



FONT: Elaboració pròpia a partir d'ESRI, USGS i NOAA.

FUENTE: Elaboración propia a partir de ESRI, USGS y NOAA.

2. a) Diguen què és la *sobirania alimentària*.
2. a) Diga qué es la *soberanía alimentaria*.

b) Esmenteu una conseqüència que pot tenir per a un país el fet de no disposar de sobirania alimentària.

b) Mencione una consecuencia que puede tener para un país el hecho de no disponer de soberanía alimentaria.

3. **a)** Definiu el terme *ciutat difusa*.
3. **a)** Defina el término *ciudad difusa*.

- b)** Esmenteu dos avantatges de la *ciutat compacta* respecte de la *ciutat difusa*.
b) Mencione dos ventajas de la *ciudad compacta* respecto a la *ciudad difusa*.

4. **a)** Definiu el terme *efecte d'hivernacle*.
4. **a)** Defina el término *efecto invernadero*.

- b)** Esmenteu dues conseqüències de l'efecte d'hivernacle.
b) Mencione dos consecuencias del efecto invernadero.

5. a) Definiu el terme *mobilitat sostenible*.
 5. a) Defina el término *movilidad sostenible*.

- b) Diguen dues accions que un govern pot promoure per a afavorir la mobilitat sostenible.
 b) Diga dos acciones que un gobierno puede promover para favorecer la movilidad sostenible.

SEGONA PART

Trieu UNA de les dues opcions (A o B) i responeu a les quatre qüestions de l'opció triada.

[4 punts: 1 punt per qüestió]

SEGUNDA PARTE

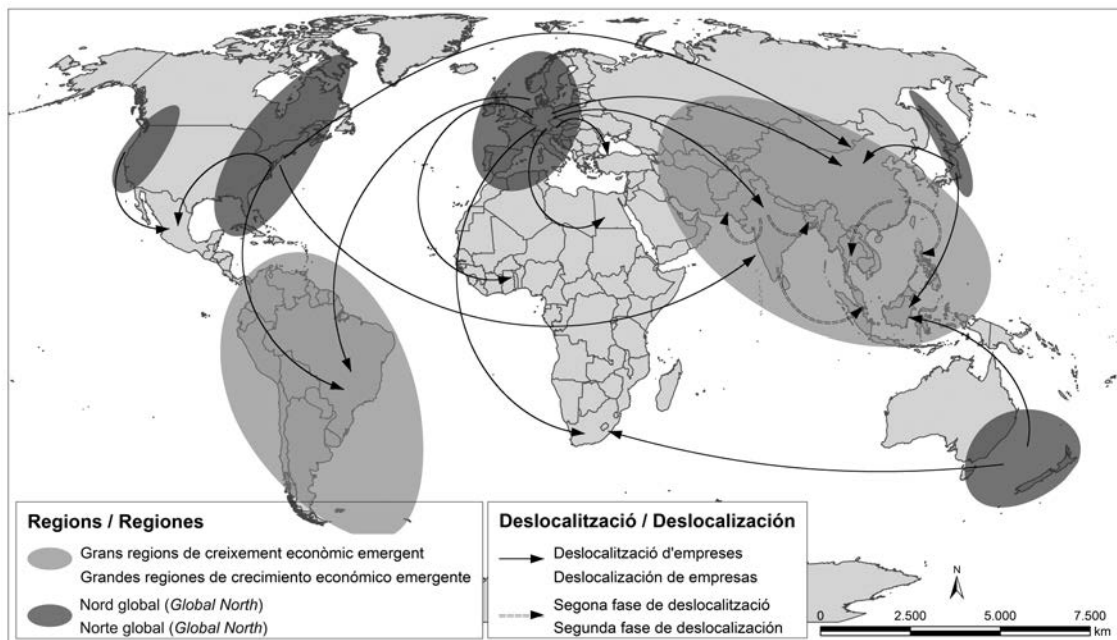
Escoja UNA de las dos opciones (A o B) y responda a las cuatro cuestiones de la opción escogida.

[4 puntos: 1 punto por cuestión]

OPCIO A

Observeu atentament el mapa i responeu a les qüestions que es plantegen a continuació.
 Observe atentamente el mapa y responda a las cuestiones que se plantean a continuación.

Fluxos principals de deslocalització d'empreses (2013)
Principales flujos de deslocalización de empresas (2013)



FONT/FUENTE: Miguel SOLANA (coord.). *Espacios globales y lugares próximos: Setenta conceptos para entender la organización territorial del capitalismo global*. Barcelona: Icaria, 2016.

1. Descriviu la informació representada en el mapa.

1. Describe la información representada en el mapa.

2. **a)** Definiu el terme *deslocalització*.

2. **a)** Defina el término *deslocalización*.

b) Esmenteu dos motius que afavoreixen la deslocalització de les empreses.

b) Mencione dos motivos que favorecen la deslocalización de las empresas.

3. **a)** Digueu dues característiques de l'activitat industrial dels països que en el mapa s'anomenen *Nord global (Global North)*.

3. **a)** Diga dos características de la actividad industrial de los países que en el mapa se denominan *Norte global (Global North)*.

b) Esmenteu dues de les activitats industrials que es duen a terme en aquests països.

b) Mencione dos de las actividades industriales que se llevan a cabo en estos países.

4. a) Esmenteu dues característiques de l'economia dels països que en el mapa s'anomenen *grans regions de creixement econòmic emergent*.

4. a) Mencione dos características de la economía de los países que en el mapa se denominan *grandes regiones de crecimiento económico emergente*.

b) Esmenteu dos països receptors de la deslocalització d'empreses i dos països receptors de la segona fase de deslocalització.

b) Mencione dos países receptores de la deslocalización de empresas y dos países receptores de la segunda fase de deslocalización.

OPCIÓ B

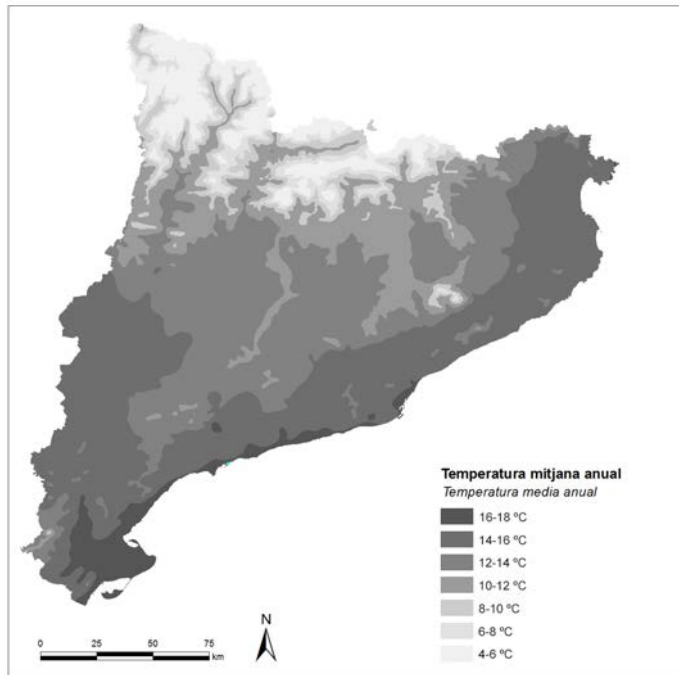
Observeu atentament el mapa i responeu a les qüestions que es plantegen a continuació.

Observe atentamente el mapa y respnda a las cuestiones que se plantean a continuación.

FONT: Adaptació feta a partir de l'*Atles climàtic de Catalunya*, del Servei Meteorològic de Catalunya.

FUENTE: Adaptación realizada a partir del *Atles climático de Catalunya*, del Servicio Meteorológico de Catalunya.

Temperatura mitjana anual de Catalunya (1961-1990)
Temperatura media anual de Catalunya (1961-1990)



1. Descriuiu la informació representada en el mapa.

1. Describe la información representada en el mapa.

2. **a)** Digueu què són les *isotermes*.

2. **a)** Diga qué son las *isotermas*.

b) Digueu què són les *isohietes*.

b) Diga qué son las *isoyetas*.

3. Enumereu els climes principals de Catalunya i esmenteu una característica de cadascun.

3. Enumere los principales climas de Catalunya y mencione una característica de cada uno.


4. *a)* Digueu quin és el motiu pel qual l'altitud té influència sobre la temperatura.

4. *a)* Diga cuál es el motivo por el cual la altitud tiene influencia sobre la temperatura.


b) Digueu quin efecte produeix la proximitat del mar sobre les temperatures.

b) Diga qué efecto produce la proximidad del mar sobre las temperaturas.

Etiqueta identificadora de l'alumne/a



Etiqueta del corrector/a



Institut
d'Estudis
Catalans